

Zeka Testleri

Ad :
Soyad :



- Resimdeki eksik kısım handisidir, bul ve işaretle..



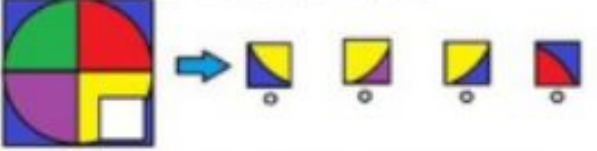
- Aşağıdaki resimde üstteki şekiller dikkate alındığında, soru işaretli kısma şekillerden hangisi gelmelidir...



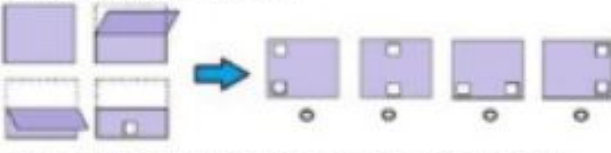
- Şekillerin sıralaması göz önüne alındığında soru işaretli kısma hangisi gelmelidir...



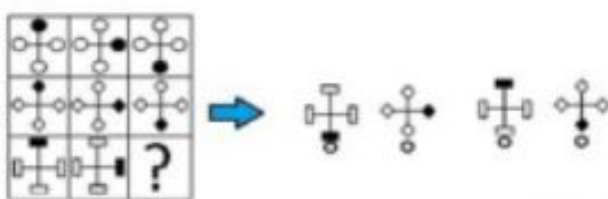
- Resimdeki eksik kısım handisidir, bul ve işaretle..




- Kağıt şeklindeki gibi kıvrıp bir delik deliniyor ve tekrar açılıyor, açıldığında yeni şekil hangisi olur...



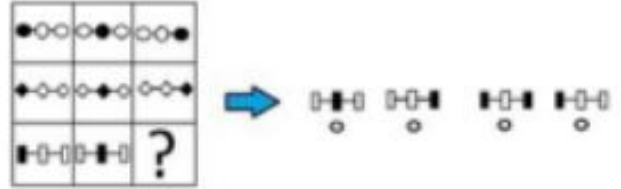
- Şekillerin sıralaması göz önüne alındığında soru işaretli kısma hangisi gelmelidir...



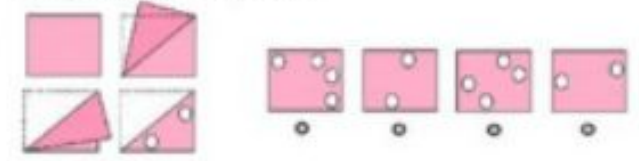
- Resimdeki eksik kısım handisidir, bul ve işaretle..



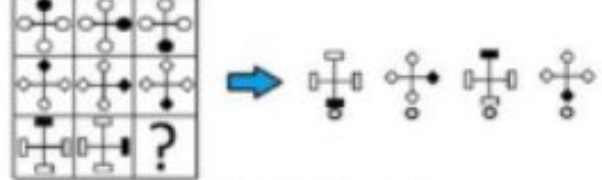
- Şekillerin sıralaması göz önüne alındığında soru işaretli kısma hangisi gelmelidir...



- Kağıt şeklindeki gibi kıvrıp bir delik deliniyor ve tekrar açılıyor, açıldığında yeni şekil hangisi olur...



- Şekillerin sıralaması göz önüne alındığında soru işaretli kısma hangisi gelmelidir...



- Resimdeki eksik kısım handisidir, bul ve işaretle..



- Aşağıdaki resimde üstteki şekiller dikkate alındığında, soru işaretli kısma şekillerden hangisi gelmelidir...



Zeka Testleri

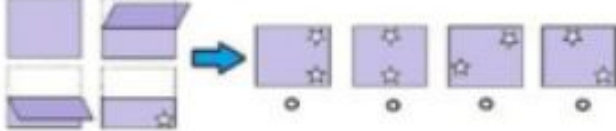
Ad :
Soyad :



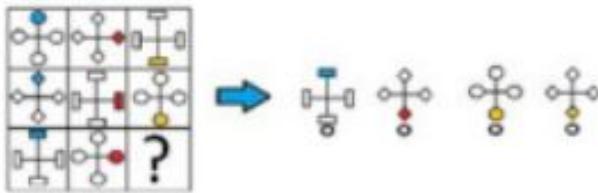
- Resimdeki eksik kısımdır, bul ve işaretle..



- Kağıt şeklindeki gibi kıvrılıp bir delik deliniyor ve tekrar açılıyor, açıldığında yeni şekli hangisi olur...



- Şekillerin sıralaması göz önüne alındığında soru işaretli kısma hangisi gelmelidir...




- Resimdeki eksik kısımdır, bul ve işaretle..



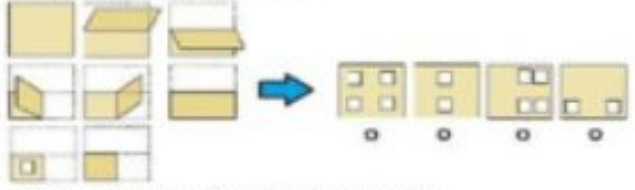
- Şekillerin sıralaması göz önüne alındığında soru işaretli kısma hangisi gelmelidir...



- Aşağıdaki resimde üstteki şekiller dikkate alındığında, soru işaretli kısma şekillerden hangisi gelmelidir...



- Kağıt şeklindeki gibi kıvrılıp bir delik deliniyor ve tekrar açılıyor, açıldığında yeni şekli hangisi olur...



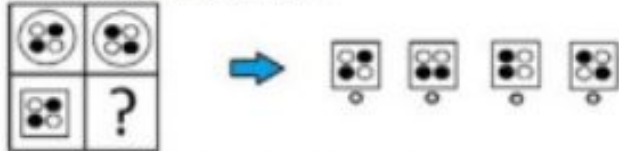
- Resimdeki eksik kısımdır, bul ve işaretle..



- Şekillerin sıralaması göz önüne alındığında soru işaretli kısma hangisi gelmelidir...




- Aşağıdaki resimde üstteki şekiller dikkate alındığında, soru işaretli kısma şekillerden hangisi gelmelidir...



- Resimdeki eksik kısımdır, bul ve işaretle..



- Aşağıdaki resimde üstteki şekiller dikkate alındığında, soru işaretli kısma şekillerden hangisi gelmelidir...

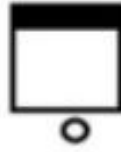


Zeka Testleri

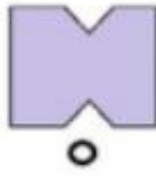
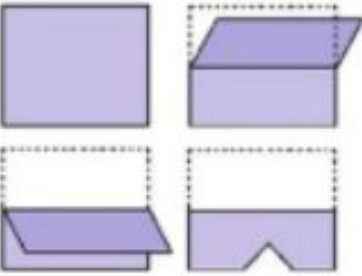
Ad :
Soyad :



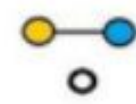
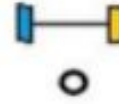
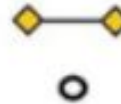
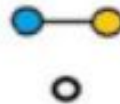
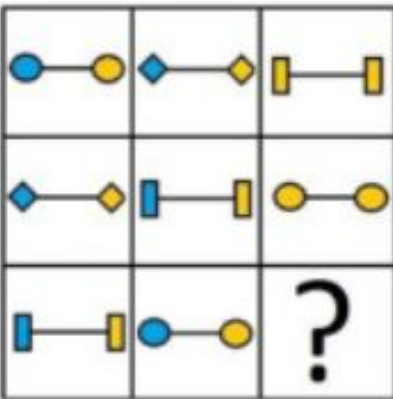
- Resimdeki eksik kısım handisidir, bul ve işaretle..



- Kağıt şeklindeki gibi kıvrılıp bir delik deliniyor ve tekrar açılıyor, açıldığında yeni şekli hangisi olur...



- Şekillerin sıralaması göz önüne alındığında soru işaretli sığma hangisi gelmelidir...




Zeka Testleri

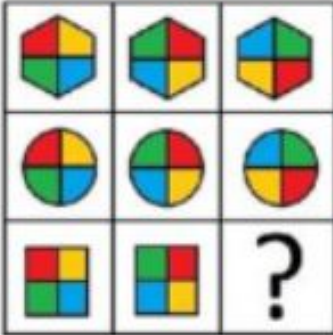
Ad :
Soyad :



- Aşağıdaki resimde üstteki şekiller dikkate alındığında, soru işaretli kısma şekillerden hangisi gelmelidir...



- Şekillerin sıralaması göz önüne alındığında soru işaretli kısma hangisi gelmelidir...



- Resimdeki eksik kısım handisidir, bul ve işaretle..

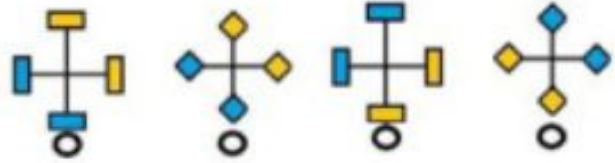
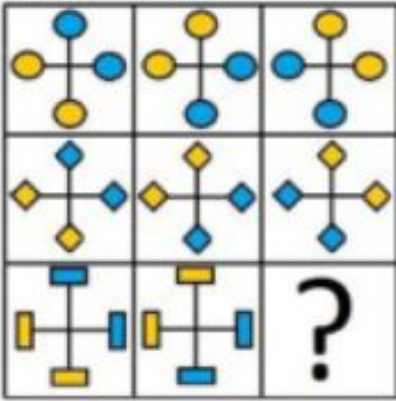


Zeka Testleri

Ad :
Soyad :



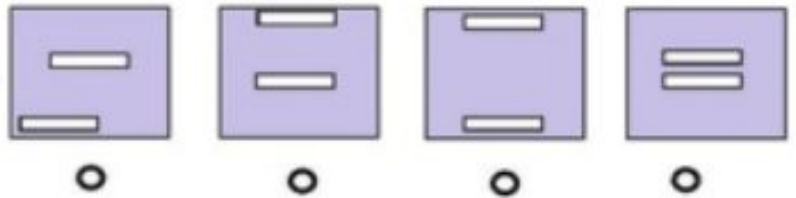
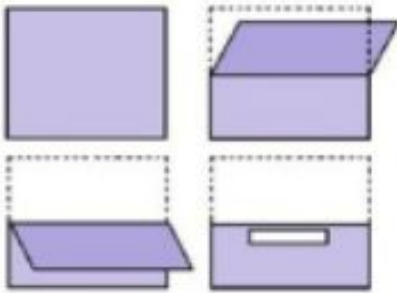
- Şekillerin sıralaması göz önüne alındığında soru işaretli sığıma hangisi gelmelidir...



- Resimdeki eksik kısım handisidir, bul ve işaretle..



- Kağıt şeklindeki gibi kıvrılıp bir delik deliniyor ve tekrar açılıyor, açıldığında yeni şekli hangisi olur...

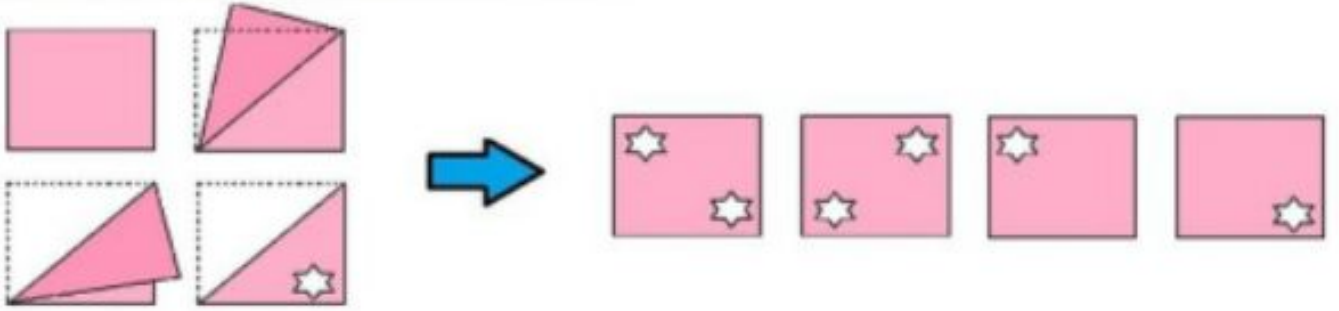


Zeka Testleri

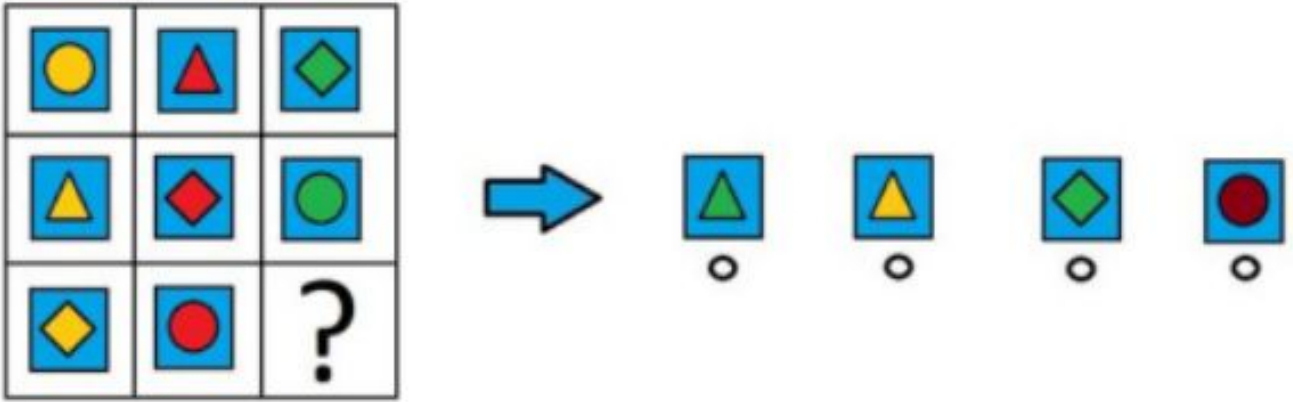
Ad :
Soyad :



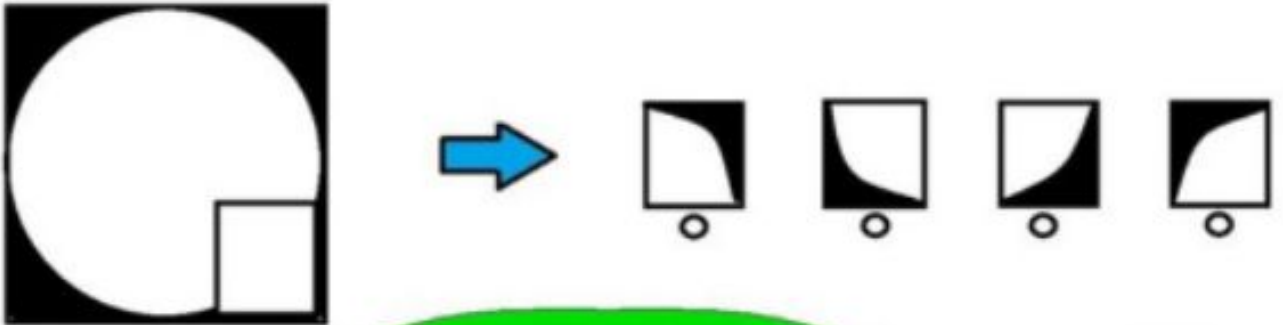
- Kağıt şeklindeki gibi kıvrılıp bir delik deliniyor ve tekrar açılıyor, açıldığında yeni şekli hangisi olur...



- Şekillerin sıralaması göz önüne alındığında soru işaretli sıkıma hangisi gelmelidir...



- Resimdeki eksik kısım handisidir, bul ve işaretle..

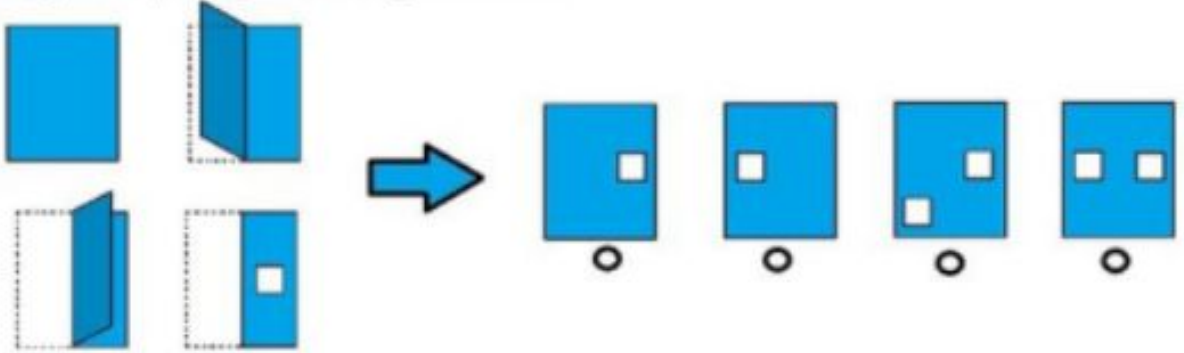


Zeka Testleri

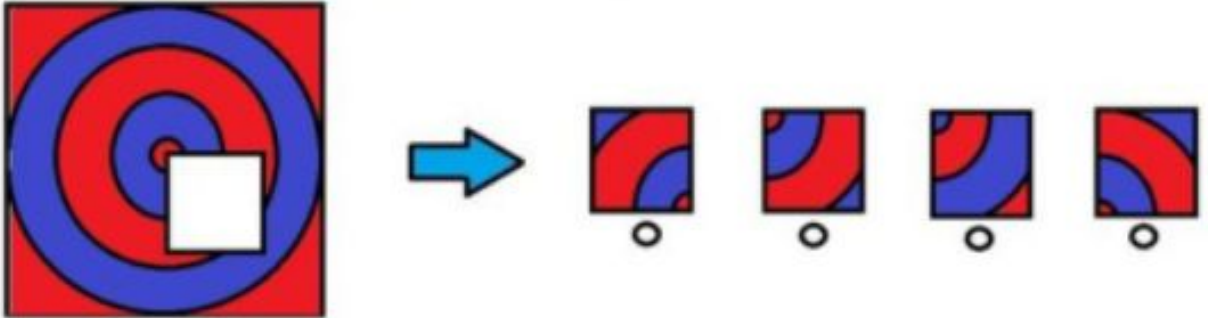
Ad :
Soyad :



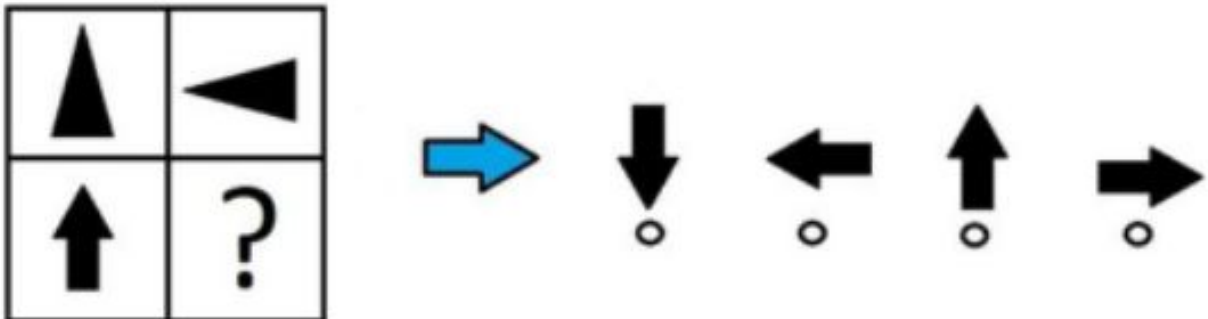
- Kağıt şekildeki gibi kıvrılıp bir delik deliniyor ve tekrar açılıyor, açıldığında yeni şekli hangisi olur...



- Resimdeki eksik kısım handisidir, bul ve işaretle..



- Aşağıdaki resimde üstteki şekiller dikkate alındığında, soru işaretli kısma şekillerden hangisi gelmelidir...



Zeka Testleri


Ad :
Soyad :




- Şekillerin sıralaması göz önüne alındığında soru işaretli sığıma hangisi gelmelidir...



- Aşağıdaki resimde üstdeki şekiller dikkate alındığında, soru işaretli kısım şekillerden hangisi gelmelidir...



- Resimdeki eksik kısım handisidir, bul ve işaretle..



Zeka Testleri


Ad :
Soyad :



- Resimdeki eksik kısım handisidir, bul ve işaretle..



- Aşağıdaki resimde üstteki şekiller dikkate alındığında, soru işaretli kısma şekillerden hangisi gelmelidir...



- Resimdeki eksik kısım handisidir, bul ve işaretle..

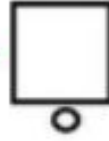


Zeka Testleri

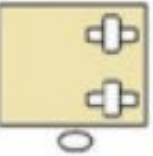
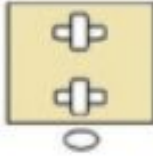
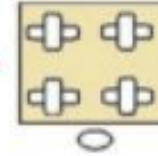
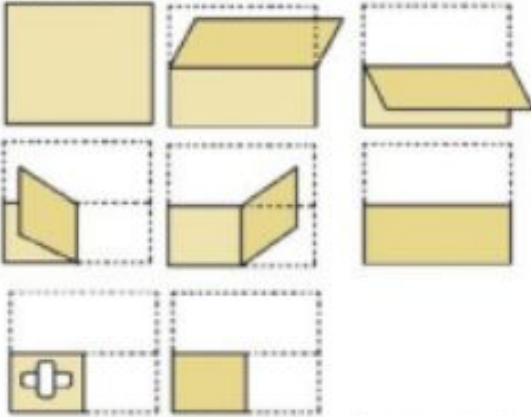
Ad :
Soyad :



- Resimdeki eksik kısım handisidir, bul ve işaretle..



- Kağıt şeklindeki gibi kıvrılıp bir delik deliniyor ve tekrar açılıyor, açıldığında yeni şekli hangisi olur...



- Aşağıdaki resimde üstteki şekiller dikkate alındığında, soru işaretli kısma şekillerden hangisi gelmelidir...




Zeka Testleri

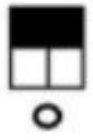

Ad :
Soyad :



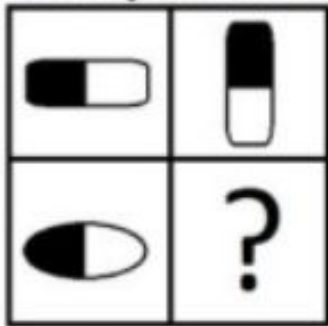
- Resimdeki eksik kısım handisidir, bul ve işaretle..



- Şekillerin sıralaması göz önüne alındığında soru işaretli sığma hangisi gelmelidir...



- Aşağıdaki resimde üstteki şekiller dikkate alındığında, soru işaretli kısma şekillerden hangisi gelmelidir...



Zeka Testleri

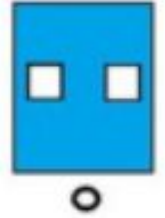
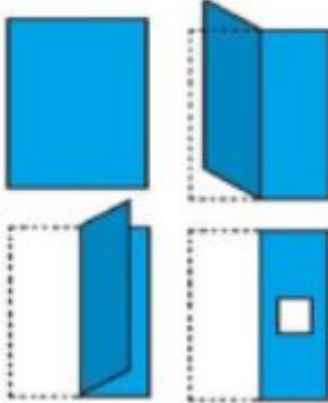
Ad :
Soyad :




- Resimdeki eksik kısım handisidir, bul ve işaretle..



- Kağıt şeklindeki gibi kıvrılıp bir delik deliniyor ve tekrar açılıyor, açıldığında yeni şekli hangisi olur...



- Aşağıdaki resimde üstteki şekiller dikkate alındığında, soru işaretli kısma şekillerden hangisi gelmelidir...

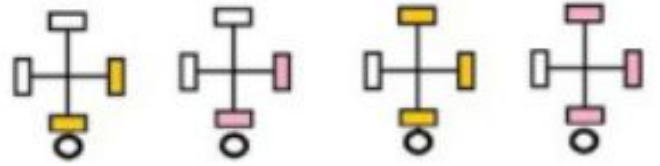
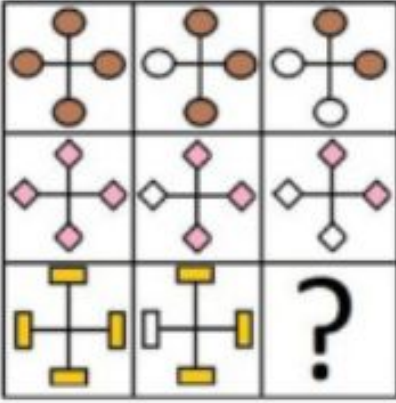


Zeka Testleri

Ad :
Soyad :



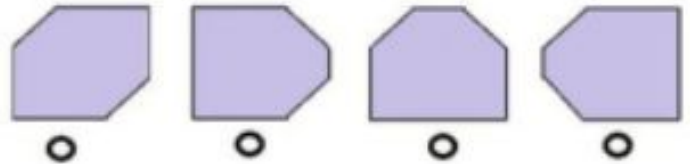
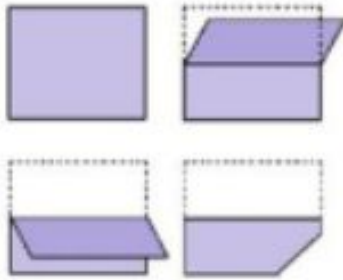
- Şekillerin sıralaması göz önüne alındığında soru işaretli sığma hangisi gelmelidir...



- Resimdeki eksik kısım handisidir, bul ve işaretle..



- Kağıt şekildeki gibi kıvrılıp bir delik deliniyor ve tekrar açılıyor, açıldığında yeni şekli hangisi olur...

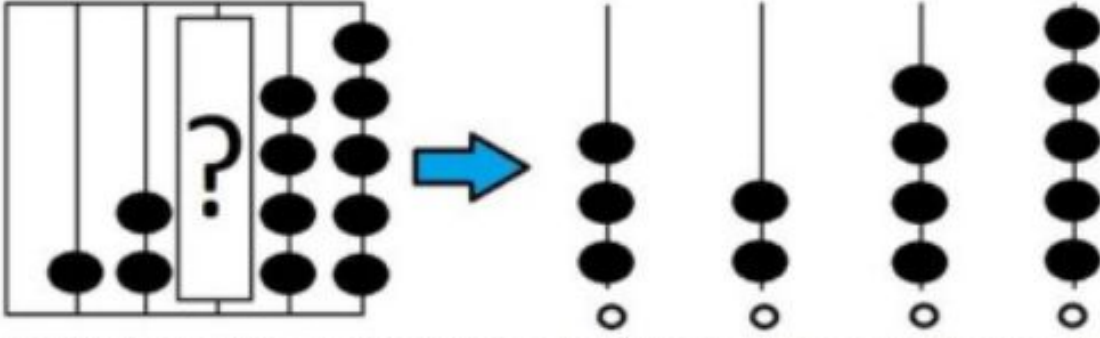


Zeka Testleri

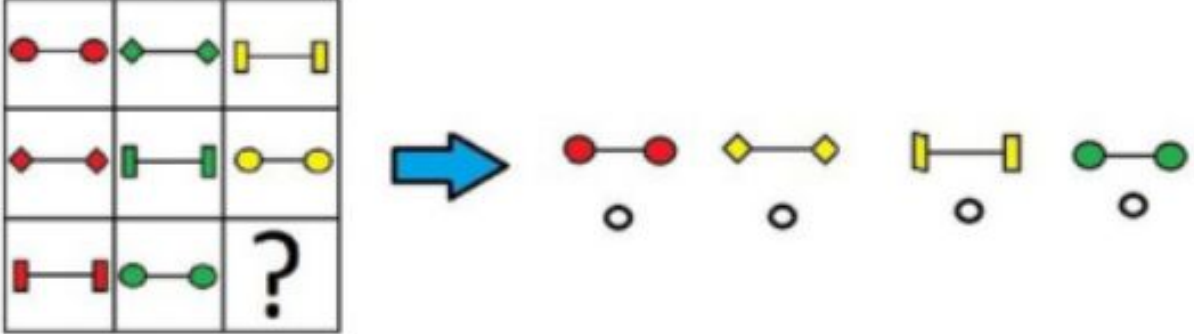
Ad :
Soyad :



- Her bir sıradaki boncuk sayısına bakıldığında soru işareti olan kısma hangisi gelmelidir...



- Şekillerin sıralaması göz önüne alındığında soru işaretli sığma hangisi gelmelidir...



- Resimdeki eksik kısım hangisidir, bul ve işaretle..



Zeka Testleri

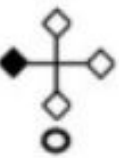
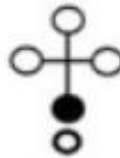
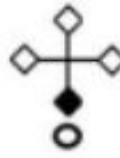
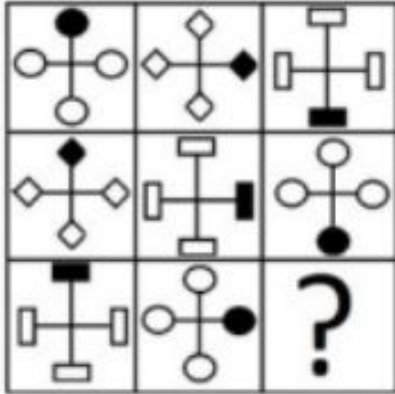
Ad :
Soyad :



- Resimdeki eksik kısım handisidir, bul ve işaretle..



- Şekillerin sıralaması göz önüne alındığında soru işaretli sığkına hangisi gelmelidir...



- Resimdeki eksik kısım handisidir, bul ve işaretle..



Zeka Testleri


Ad :
Soyad :





- Resimdeki eksik kısım handisidir, bul ve işaretle..



- Aşağıdaki resimde üstteki şekiller dikkate alındığında, soru işaretli kısma şekillerden hangisi gelmelidir...



- Resimdeki eksik kısım handisidir, bul ve işaretle..



Zeka Testleri


Ad :
Soyad :




- Resimdeki eksik kısım handisidir, bul ve işaretle..



- Aşağıdaki resimde üstteki şekiller dikkate alındığında, soru işaretli kısma şekillerden hangisi gelmelidir...



- Resimdeki eksik kısım handisidir, bul ve işaretle..

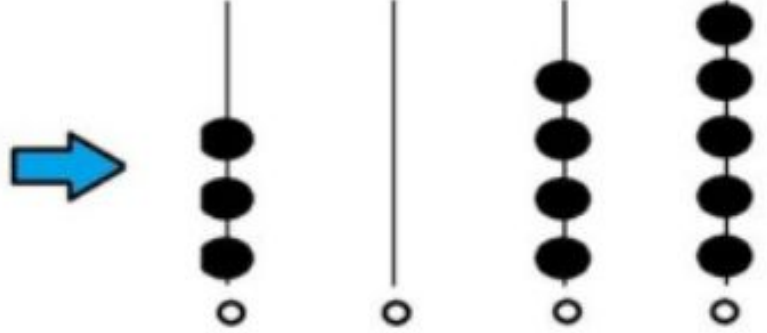
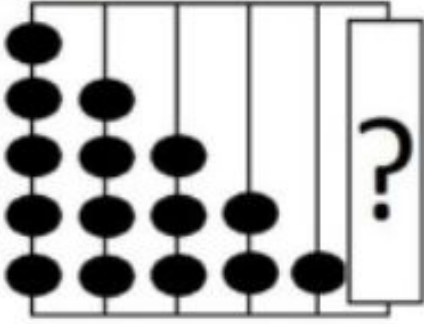


Zeka Testleri

Ad :
Soyad :





- Her bir sıradaki boncuk sayısına bakıldığında soru işareti olan kısma hangisi gelmelidir...



- Resimdeki eksik kısım handisidir, bul ve işaretle..



- Şekillerin sıralaması göz önüne alındığında soru işaretli sıklıma hangisi gelmelidir...




Zeka Testleri

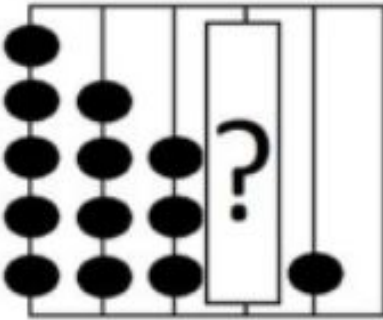
Ad :
Soyad :



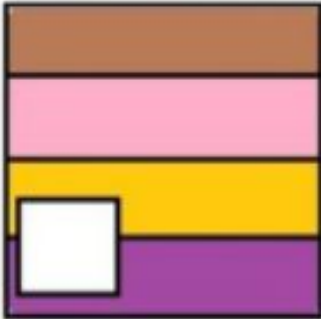
- Resimdeki eksik kısım handisidir, bul ve işaretle..



- Her bir sıradaki boncuk sayısına bakıldığında soru işareti olan kısma hangisi gelmelidir...



- Resimdeki eksik kısım handisidir, bul ve işaretle..



Zeka Testleri




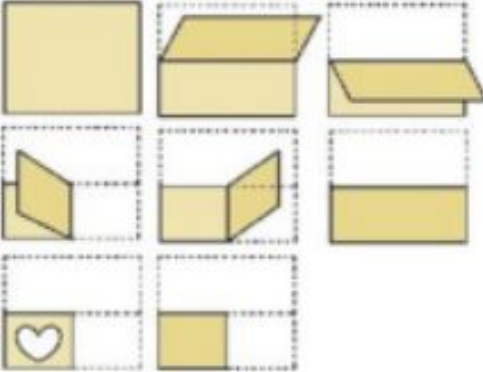
Ad :
Soyad :



- Resimdeki eksik kısım handisidir, bul ve işaretle..



- Kağıt şekildeki gibi kıvrılıp bir delik deliniyor ve tekrar açılıyor, açıldığında yeni şekli hangisi olur...



- Şekillerin sıralaması göz önüne alındığında soru işaretli sığma hangisi gelmelidir...

