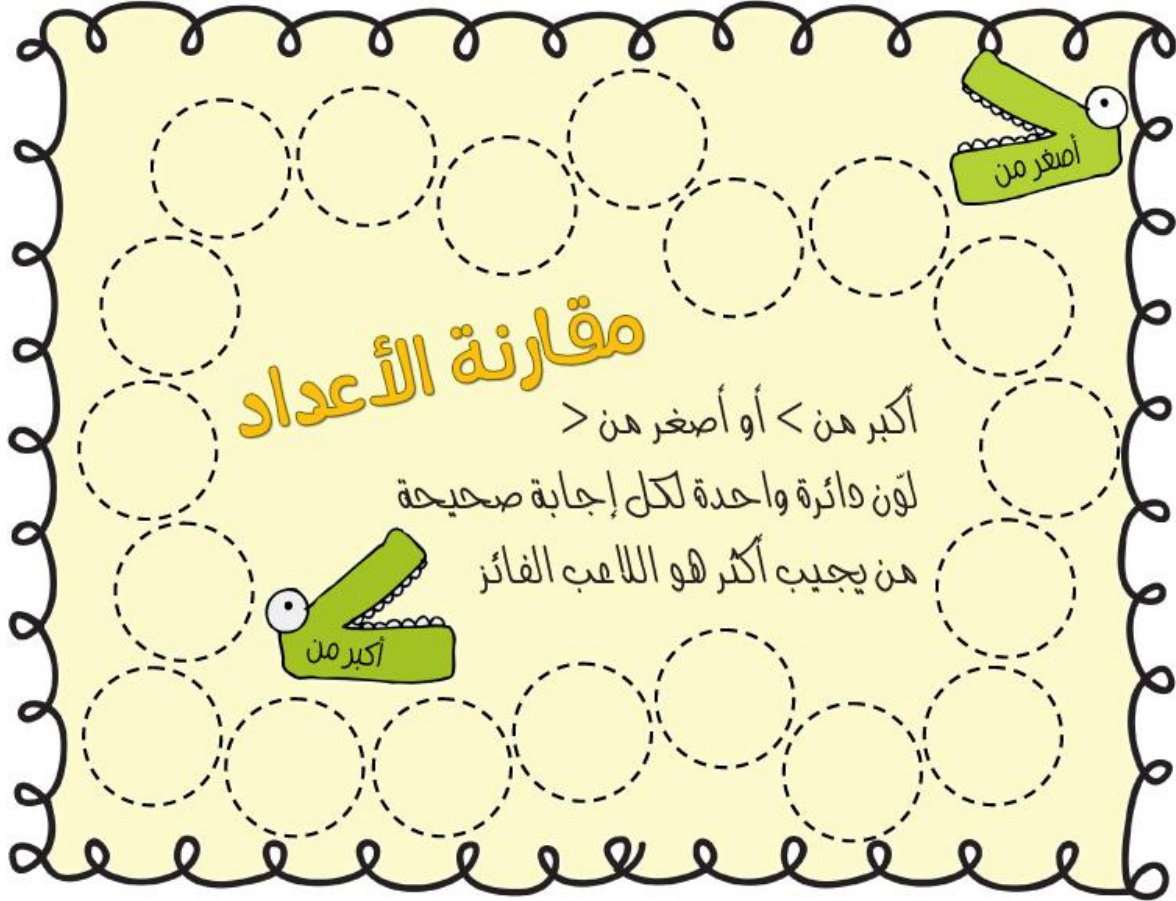


ماتخرا قسما









نماذج من التصميمات لدرس مقارنة الأعداد

Two identical worksheets for comparing numbers, each featuring a 3x3 grid of empty boxes for writing. The top worksheet includes three cartoon illustrations: a green crocodile-like creature with its mouth open, a pink character with two eyes and yellow shoes, and another green crocodile-like creature with its mouth open. The bottom worksheet is identical but lacks the illustrations.



نماذج من التصميمات لدرس مقارنة الأعداد

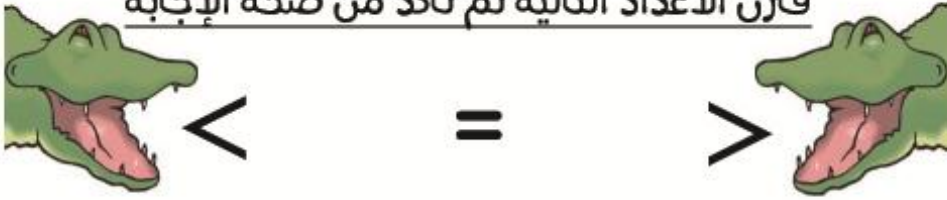
٤٣		٤٩
٥٢		٤٩
٣٧		٢٩
٧٥		٨١
٩٧		٤٨
١٢		٤٣

الدرجة : _____

اسمي الجميل : _____

واجب منزلي

قارن الأعداد التالية ثم تأكد من صحة الإجابة



١٣ _____ ١٩

٤١ _____ ٣٤

٥١ _____ ٣٨

١٣ _____ ١٣

١١ _____ ٧٢

١٦ _____ ٦١

٥٥ _____ ٢٥

٤١ _____ ٥٩

٧٣ _____ ٢٩

٥٤ _____ ٣٢

٣٣ _____ ٧٢

٤٤ _____ ٢٤

٤١ _____ ٧١

٩٢ _____ ٢٩

٢٠ _____ ١٢

٩٨ _____ ٤١

٢٤ _____ ٦٦

٣٩ _____ ٣٩

٧٢ _____ ٦٧

٨٧ _____ ٤٢

١٠ _____ ١٣


اسمي الجميل :

قارني بين
الأعداد التالية
بوضع إشارة
=, >, <

المحك
الدرجة

٣٦ _____ ٨٩
١٧ _____ ٩٠
٢٧ _____ ٢٧
٥٦ _____ ٣٣
٢٣ _____ ١١

١٨ _____ ٤٨
١٠ _____ ٧٠
١٥ _____ ٥١
٢٠ _____ ١٩
١٤ _____ ١٤





اسمي _____

مقارنة الأعداد (نشاط إثنائي)



أصغر من



أكبر من

- الخطوة ١ : اقطع رؤوس التماسيح من أسفل الورقة .
- الخطوة ٢ : ألصقهم على الورقة باتجاه العدد الأكبر .

٧٨

٧٢

٨٦

٨٨

٥١

٤٩

٦٠

٥٨

٤٣

٤٦

٢٥

٣٣

٢٢

٧٢

٦١

٤٣

