



بِسْمِ اللَّهِ الرَّحْمَنِ الرَّحِيمِ



مقاييس الإدراك : مقياس الإدراك البصري





الإدراك : الإدراك البصري



إعداد الطالبات :

- ابتسام العلياني (١٢٣٢١١٥)
- أسرار خان (١٢٣٧٢٥٨)
- أمجاد القريقي (١٢٣٤٤٨١)
- بدور الشهري (١٢٣٢٠٢٨)
- بسمة العلياني (١٢٣٢١١٤)
- بشاير السلمي (١٢٣٦٢١٢)
- سحر الحربي (١٢٣٦٣٨٨)
- سوسن السلمي (١١٣٧١٣١)
- عهد كحيل (١٢٣٦٠٦١)
- مرام السلمي (١٢٣٢٩١٨)

إشراف :

د. منى النسور

عام :

١٤٣٦هـ / ٢٠١٥ م



الإدراك : الإدراك البصري



مهارات الإدراك البصري



علاقات
مكانية



شكل
وأرضية



ذاكرة
بصرية



إغلاق
بصري



تمييز
بصري





الإدراك الإدراك البصري

التمييز البصري

تعريفه :

قدرة الطفل على تمييز الأشكال المتشابهة والمختلفة وتمييز الألوان والتمييز بين الأطوال والأحجام والتمييز بين الحروف والأرقام واكتشاف الفروق بين الصورتين



الإدراك الإدراك البصري

مهارات التمييز البصري :

- ١- تمييز الأشكال المتشابهة و المختلفه
- ٢- تمييز الألوان
- ٣- التمييز بين الأطوال و الأحجام
- ٤- التمييز بين الحروف و الأرقام
- ٥- الاختلافات بين صورتين



الإدراك الإدراك البصري

١- تمييز الأشكال المتشابهة
و المختلفة



الإدراك الإدراك البصري

التمرين الأول






اختر الإجابة الصحيحة :

هو :



الشكل المطابق لشكل المربع










الإدراك الإدراك البصري

التمرين الثاني



اختر الإجابة الصحيحة :

الشكل المطابق لشكل الدائرة هو : 






الإدراك الإدراك البصري

التمرين الثالث



اختر الإجابة الصحيحة :

الصورة الشاذة من بين الصور التالية هي :





الإدراك الإدراك البصري

التمرين الرابع



اختر الإجابة الصحيحة :

الصورة الشاذة من بين الصور التالية هي :








الإدراك الإدراك البصري

التمرين الخامس



اختر الإجابة الصحيحة :

الصورة المختلفة من بين الصور المتشابهة التالية هي :





الإدراك الإدراك البصري

٢- تمييز الألوان



الإدراك الإدراك البصري

التمرين الأول



اختر الإجابة الصحيحة :

البيت الأخضر هو :





الإدراك الإدراك البصري



• التمرين الثاني



اختر الإجابة الصحيحة :

الكرة الحمراء هي :





الإدراك الإدراك البصري

• التمرين الثالث



اختر الإجابة الصحيحة :

لون السيارة الموجودة في الصورة هو



أخضر

أزرق

أصفر

أحمر



الإدراك الإدراك البصري

• التمرين الرابع



اختر الإجابة الصحيحة :



لون الزهرة الموجودة في الصورة هو :

أزرق

أخضر

أصفر

أحمر

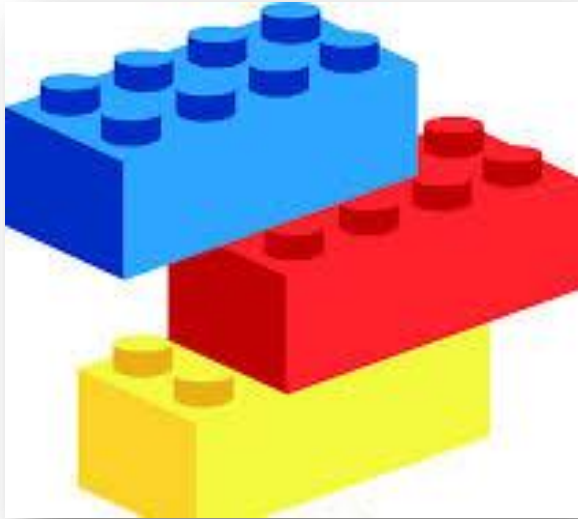


الإدراك الإدراك البصري

• التمرين الخامس



اختر ألوان المكعبات الموجودة في الصورة :



أزرق و أخضر و أصفر

أزرق و أحمر و أصفر

أزرق و أحمر و أسود

أزرق و برتقالي و أصفر



الإدراك : الإدراك البصري

٣- التمييز بين الأحجام و
الأطوال



الإدراك : الإدراك البصري

أولاً : الأحجام



الإدراك : الإدراك البصري

التمرين الأول



اختر الإجابة الصحيحة :

البيت الأكبر هو :





الإدراك : الإدراك البصري

التمرين الثاني



اختر الإجابة الصحيحة :

الدمية الأصغر هي :





الإدراك : الإدراك البصري

التمرين الثالث



اختر الإجابة الصحيحة :

الفستان الذي يناسب الفتاة التي في الصورة هو : ←



Acclaim Images.com



Acclaim Images.com



الإدراك : الإدراك البصري

التمرين الرابع



اختر الإجابة الصحيحة :

الحذاء الذي يناسب الطفل الذي في الصورة هو : ←






الإدراك : الإدراك البصري

التمرين الخامس



اختر الإجابة الصحيحة :

الكرة التي يمكن ادخالها في الصندوق الذي في ←
الصورة هي :





الإدراك : الإدراك البصري

اختر الإجابة الصحيحة :

ثانياً : الأَطوال



الإدراك : الإدراك البصري

التمرين الأول



اختر الإجابة الصحيحة :

الشجرة الأطول هي :





الإدراك : الإدراك البصري

التمرين الثاني



اختر الإجابة الصحيحة :

الولد الأقصر هو :





الإدراك : الإدراك البصري

التمرين الثالث



اختر الإجابة الصحيحة :



هند أطول من أحمد

أحمد أطول من هند

هند و أحمد متساويان في الطول




الإدراك : الإدراك البصري

التمرين الرابع



اختر الإجابة الصحيحة :

الفيل خرطومه :



طويل

قصير



الإدراك : الإدراك البصري

التمرين الخامس



اختر الإجابة الصحيحة :



الفتاة ترتدي فستان :

طويل

قصير



الإدراك : الإدراك البصري

٤- مطابقة نماذج الحروف و
الأرقام

أولاً : الحروف



الإدراك : الإدراك البصري

التمرين الأول



اختر الإجابة الصحيحة :

حرف الباء هو :

ب

ب

ب





الإدراك : الإدراك البصري

التمرين الثاني



اختر الإجابة الصحيحة :

الحرف المطابق لحرف (السين) في الجهة اليمنى هو :






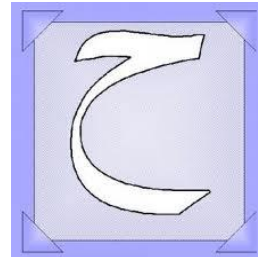
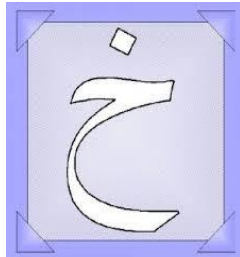

الإدراك : الإدراك البصري

التمرين الثالث



اختر الإجابة الصحيحة :

الحرف المطابق لحرف (الخاء) في الجهة اليمنى هو :





الإدراك : الإدراك البصري

التمرين الرابع



اختر الإجابة الصحيحة :

الشيء الموجود في الصورة أمامك ، يبدأ بحرف :

ض

ص

س






الإدراك : الإدراك البصري

التمرين الخامس



اختر الإجابة الصحيحة :

الفاكهة الموجودة في الصورة أمامك ، تبدأ بحرف :



ز

ر

د



الإدراك : الإدراك البصري

ثانياً : الأرقام



الإدراك : الإدراك البصري

التمرين الأول



اختر الإجابة الصحيحة :

عدد الشجرات في الصورة هو :



٣

٢

١



الإدراك : الإدراك البصري

التمرين الثاني



اختر الإجابة الصحيحة :

عدد البالونات في الصورة هو :



٨

٧

٦



الإدراك : الإدراك البصري

التمرين الثالث



اختر الإجابة الصحيحة :

عدد أصابع يد الإنسان :



٩

٥

٦



الإدراك : الإدراك البصري

التمرين الرابع



اختر الإجابة الصحيحة :

الرقم المطابق للرقم (٧) الموجود في الجهة اليمنى هو :

٧

٨

٨

٧




الإدراك : الإدراك البصري

التمرين الخامس



اختر الإجابة الصحيحة :

المعدودات التي تطابق العدد (٢) هي :





الإدراك : الإدراك البصري

٥- الاختلافات بين صورتين



الإدراك : الإدراك البصري

التمرين الأول



Quiz Viewer

NewQuiz

Question 1 of 1 \ Click Map \ 10

these images with piglets.

TK TK

Outline...

Submit



الإدراك : الإدراك البصري

التمرين الثاني



Quiz Viewer

NewQuiz

Question 1 of 1 \ Click Map \ 10

اوجد الاختلافات الخمسة بين الصورتين بالضغط على مكان الاختلاف

Outline...

Submit




الإدراك : الإدراك البصري



ماذا يعني الإغلاق البصري؟

القدرة على التعرف على الشكل الكلي عندما تظهر
اجزاء من الشكل فقط او معرفة الكل حين يفقد جزء
او اكثر من هذا الكل.

الإغلاق.....



102796



الإدراك : الإدراك البصري

مهارة الإغلاق البصري :

المهارات الفرعية :

- ١) مهارة اكمال الجزء الناقص من الصورة .
- ٢) مهارة اكمال الحرف الناقص من الكلمة .
- ٣) مهارة اكمال الكلمة الناقصة من الجملة .



الإدراك : الإدراك البصري

مهارة إكمال الجزء الناقص من الصورة:

تمارين المهارة :

- (١) جزء من الشجرة
- (٢) اجزاء الحاسوب
- (٣) فراشات
- (٤) جمادات
- (٥) صور متنوعة
- (٦) اشخاص



الإدراك : الإدراك البصري

التمرين الأول

اختر الإجابة الصحيحة :
أين هو الجزء الناقص من الصورة؟



ج



ب



أ



الإدراك : الإدراك البصري

التمرين الثاني

اختر الإجابة الصحيحة :
أين هو الجزء الناقص من الصورة:



ج



ب



أ



الإدراك : الإدراك البصري

التمرين الثالث

اختر الإجابة الصحيحة :
أين الصورة التي تمثل الجزء؟



ج



ب



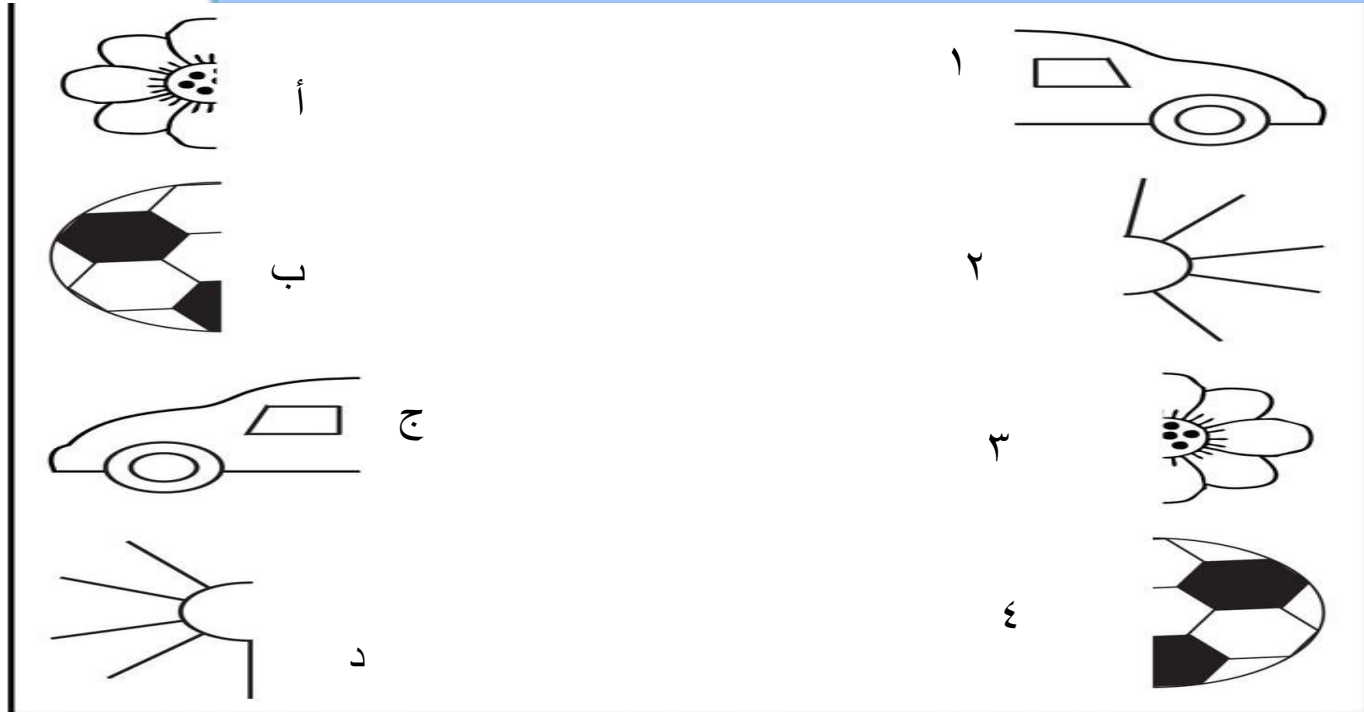
أ



الإدراك : الإدراك البصري

التمرين الرابع

اختر الإجابة الصحيحة :
اختر الأجزاء المكتملة للصورة:






الإدراك : الإدراك البصري

التمرين الخامس



اختر الإجابة الصحيحة :
اختر الجزء الموافق للصورة:





الإدراك : الإدراك البصري

التمرين السادس



اختر الإجابة الصحيحة :
اختر الأجزاء المكتملة لبعضها:



أ



١



ب



٢



الإدراك : الإدراك البصري

مهارة إكمال الحرف الناقص من الكلمة:

تمارين المهارة:

- ١) حرف من اسم حيوان
- ٢) حرف من كلمة لشيء
- ٣) حرف من كلمة تعبر عن مهنة
- ٤) حرف من اسم حيوان
- ٥) حرف من اسم لشيء
- ٦) حرف من اسم لحيوان



الإدراك : الإدراك البصري

التمرين الأول

اختر الإجابة الصحيحة :
ما هو الحرف الناقص من الكلمة:



جم

ر

ل

ع



الإدراك : الإدراك البصري

التمرين الثاني

اختر الإجابة الصحيحة :
ما هو الحرف الناقص من الكلمة؟

اتف

هـ

ع

س





الإدراك : الإدراك البصري

التمرين الثالث

اختر الإجابة الصحيحة :
ما هو الحرف الناقص من الكلمة:



م - ل م

ط

ث

ع




الإدراك : الإدراك البصري

التمرين الرابع

اختر الإجابة الصحيحة :
ما هو الحرف الناقص من الكلمة؟

خر...ف



ي

و

ث



الإدراك : الإدراك البصري

التمرين الخامس

اختر الإجابة الصحيحة :
ما هو الحرف الناقص من الكلمة؟

كر...



ع

ك

ة



الإدراك : الإدراك البصري

التمرين السادس



اختر الإجابة الصحيحة :
ما هو الحرف الناقص من الكلمة؟

ضفد.....



ل

ع

ر



الإدراك : الإدراك البصري

مهارة اكمال الكلمة الناقصة من الجملة:

تمارين المهارة:

- ١) كلمة تعبر عن طعام
- ٢) كلمة تعبر عن شيء
- ٣) كلمة تعبر عن مدينة
- ٤) كلمة تعبر عن حيوان
- ٥) كلمة تعبر عن حيوان
- ٦) كلمة تعبر عن فاكهه



الإدراك : الإدراك البصري

التمرين الأول

اختر الإجابة الصحيحة :
ماهي الكلمة الناقصة من الجملة؟



أكلت سارة..... في المطعم مع صديقاتها.

بطاطس

شوربة

بيتزا



الإدراك : الإدراك البصري

التمرين الثاني

اختر الإجابة الصحيحة :
ماهي الكلمة الناقصة من الجملة؟



جلس احمد على..... منصتاً لشرح معلمه.

السيبورة

الكرسي

الطاولة



الإدراك : الإدراك البصري

التمرين الثالث

اختر الإجابة الصحيحة :
ماهي الكلمة الناقصة من الجملة؟

تدعى مدينة بعروس البحر الأحمر.

جده

الرياض

أبها






الإدراك : الإدراك البصري

التمرين الرابع

اختر الإجابة الصحيحة :
ماهي الكلمة الناقصة من الجملة؟

.....شكله جميل يلفت النظر



العصفور

الارنب

الديك




الإدراك : الإدراك البصري

التمرين الخامس

اختر الإجابة الصحيحة :
ماهي الكلمة الناقصة من الجملة؟

..... رقبته طويلة



الفيل

الزرافة

البطريق



الإدراك : الإدراك البصري

التمرين السادس



اختر الإجابة الصحيحة :
ماهي الكلمة الناقصة من الجملة؟

يصنف من ضمن مجموعة الفواكه



الطماطم

البرتقال

الفراولة

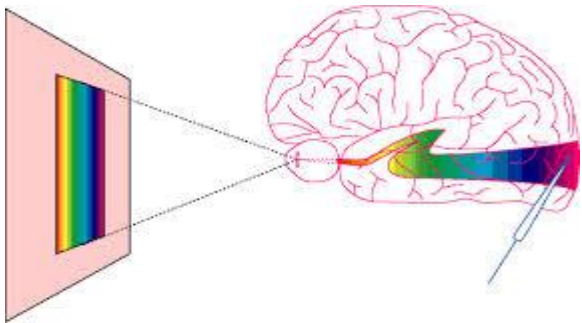


الإدراك : الإدراك البصري



ماذا تعني الذاكرة البصرية؟

هي القدرة على استدعاء مثيرات بصرية بعد رؤيتها إما وفق ترتيب معين أو دون ترتيب أو عن طريق تحديد العنصر الناقص أو المحذوف من مجموعة صور.





الإدراك : الإدراك البصري

مهارة الذاكرة البصرية:

المهارات الفرعية :

- ١) استرجاع الصور المرئية وفق ترتيب معين.
- ٢) استرجاع الصور دون التقيد بالترتيب.
- ٣) القدرة على تحديد العنصر الناقص أو المحذوف من مجموعة صور.



الإدراك : الإدراك البصري

مهارة استرجاع الصور المرئية وفق ترتيب معين.

تمارين المهارة :

- ١) صور حيوانات
- ٢) صور فواكه
- ٣) صور جمادات
- ٤) صور حروف
- ٥) صور أرقام







الإدراك : الإدراك البصري

التمرين الأول




انظر جيداً في الصور التالية:






الإدراك : الإدراك البصري


اختر الترتيب الصحيح للصور السابقة



أ.



ب.



ج.






الإدراك : الإدراك البصري

التمرين الثاني




انظر جيداً في الصور التالية:







الإدراك : الإدراك البصري


اختر الترتيب الصحيح للصور السابقة



أ-



ب-



ج-




الإدراك : الإدراك البصري

التمرين الثالث



انظر جيداً في الصور التالية:





الإدراك : الإدراك البصري

اختر الترتيب الصحيح للصور السابقة



أ.



ب.



ج.







الإدراك : الإدراك البصري

التمرين الرابع







انظر جيداً في الصور التالية:









الإدراك : الإدراك البصري





اختر الترتيب الصحيح للصور السابقة



أ.



ب.



ج.




الإدراك : الإدراك البصري

التمرين الخامس



انظر جيداً في الصور التالية:





الإدراك : الإدراك البصري


اختر الترتيب الصحيح للصور السابقة



أ -



ب -



ج -



الإدراك : الإدراك البصري

مهارة استرجاع الصور المرئية دون التقيد بالترتيب.

تمارين المهارة :

- ١) صور حيوانات
- ٢) صور شخصيات كرتونية
- ٣) صور فواكة
- ٤) صور أرقام
- ٥) صور كلمات



الإدراك : الإدراك البصري

التمرين الأول



انظر جيداً في الصور التالية:





الإدراك : الإدراك البصري

اختر الصور الصحيحة دون التقيد بالترتيب



أ •



ب •



ج •



الإدراك : الإدراك البصري

التمرين الثاني



انظر جيداً في الصور التالية:





الإدراك : الإدراك البصري

اختر الصور الصحيحة دون التقييد بالترتيب



أ - ●



ب - ●



ج - ●





الإدراك : الإدراك البصري

التمرين الثالث



انظر جيداً في الصور التالية:








الإدراك : الإدراك البصري


اختر الصور الصحيحة دون التقيد بالترتيب






أ •



ب •



ج •





الإدراك : الإدراك البصري

التمرين الرابع



انظر جيداً في الصور التالية:





الإدراك : الإدراك البصري

اختر الصور الصحيحة دون التقيد بالترتيب



• أ-



• ب-



• ج-



الإدراك : الإدراك البصري

التمرين الخامس



انظر جيداً في صور الكلمات التالية:

• حبر بحر حبل جبل



الإدراك : الإدراك البصري

اختر الصور الصحيحة دون التقيد بالترتيب



• أ- حبر حرم جبل

• ب- حبر جبل بحر

• ج- حبر بحر ربح جبل



الإدراك : الإدراك البصري

مهارة استرجاع الصور المرئية وفق ترتيب معين.

تمارين المهارة :

- ١) صور ملابس.
- ٢) صور كلمات.
- ٣) صور أشكال هندسية.
- ٤) صور وسائل مواصلات.
- ٥) صور أدوات الطعام.



الإدراك : الإدراك البصري

التمرين الأول



انظر جيداً في الصور التالية:





الإدراك : الإدراك البصري

اختر الصورة المحذوفة من الصور السابقة



أ. •

ب. •

ج. •



الإدراك : الإدراك البصري

التمرين الثاني



انظر جيداً في صور الكلمات التالية:

عصفور – أرنب – أسد – زرافة



الإدراك : الإدراك البصري

اختر الصورة المحذوفة من الصور السابقة

عصفور - أرنب - زرافة

أ- أسد

ب- نجمة

ج- سيارة




الإدراك : الإدراك البصري

التمرين الثالث



انظر جيداً في الصور التالية:





الإدراك : الإدراك البصري


اختر الصورة المحذوفة من الصور السابقة



• أ-



• ب-



• ج-




الإدراك : الإدراك البصري

التمرين الرابع



انظر جيداً في الصور التالية:





الإدراك : الإدراك البصري

اختر الصورة المحذوفة من الصور السابقة



أ •



ب •



ج •



الإدراك : الإدراك البصري

التمرين الخامس



انظر جيداً في الصور التالية:



١٠



الإدراك : الإدراك البصري

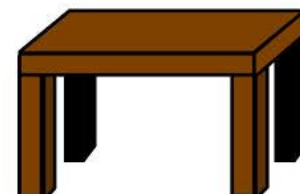
اختر الصورة المحذوفة من الصور السابقة



أ. •



ب. •



ج. •



الإدراك : الإدراك البصري



ماذا يعني إدراك الشكل والأرضية ؟

هي القدرة على التعرف على الأشياء المتداخلة وتمييزها و تحديد أماكن أشياء أو أشكال مخفاة على خلفيات معقدة





الإدراك : الإدراك البصري

مهارة إدراك الشكل والأرضية :

المهارات الفرعية :

- ١) مهارة التعرف على الأشياء المتداخلة وتمييزها .
- ٢) مهارة تحديد أماكن أشياء أو أشكال مخفاة على خلفيات معقدة .



الإدراك : الإدراك البصري



مهارة تحديد أماكن أشياء أو أشكال مخفاة على خلفيات معقدة

أن نعرض على الطالب صورة معقدة
و نضع بعض الأشكال أو الأشياء بطريقة مخفية بحيث
يستدعي تركيز الطالب لإيجاد الشيء المطلوب في السؤال



الإدراك : الإدراك البصري

مهارة تحديد أماكن أشياء أو أشكال مخفاة على خلفيات معقدة :

تمارين المهارة :

- ١) عد الثعابين المخفية .
- ٢) عد العصافير المخفية .
- ٣) اكتشف الحرف .
- ٤) اكتشف الحرف .
- ٥) الفأر التائه .
- ٦) اكتشف الكلمة .



الإدراك : الإدراك البصري

التمرين الأول




اختر الإجابة الصحيحة :
كم عدد الثعابين في الصورة التالية ؟

٤

٦

٨





الإدراك : الإدراك البصري

التمرين الثاني



اختر الإجابة الصحيحة :
كم عدد العصافير في الصورة التالية ؟

٧

٥

٣





الإدراك : الإدراك البصري



التمرين الثالث



اختر الإجابة الصحيحة :
ما هو الحرف الذي يظهر في الصورة ؟

ث

ث

ث



الإدراك : الإدراك البصري

التمرين الرابع



اختر الإجابة الصحيحة :
ما هو الحرف الذي يظهر في الصورة ؟

م

ح

ص



الإدراك : الإدراك البصري

التمرين الخامس



في الصورة التالية فأرّ تائه ، حاول أن تجده ثم انقر عليه :





الإدراك : الإدراك البصري

التمرين السادس



اختر الإجابة الصحيحة :
ماهي الكلمة التي كتبت على الصورة ؟

حليب

أرنب

نخيل





الإدراك : الإدراك البصري

التمرين السابع

هيا نلعب ونتعلم



الإدراك : الإدراك البصري

١- مهارة التعرف على الأشياء المتداخلة و تمييزها :

تمارين المهارة :

- ١) اختيار عدد الأكواب الحمراء الصحيح من مجموعة الأكواب المتداخلة في الصورة .
- ٢) اختيار عدد الكرات المتداخلة الصحيح في الصورة .
- ٣) اختيار عدد الطيور فقط الصحيح من مجموعة الحيوانات المتداخلة في الصورة .
- ٤) اختيار العدد الصحيح للأدوات المتداخلة في الصورة .
- ٥) ذكر أسماء الحيوانات المتداخلة في الصورة ثم اختيار عددها الصحيح .



الإدراك : الإدراك البصري



كيفية التعرف على الأشكال المتداخلة و تمييزها :

و ذلك بأن نعرض على الطفل أشكال مألوفة
ليتعرف عليها ، و بعد ذلك نقوم بتركيب الأشكال
فوق بعضها البعض بطريقة تخفي من كل شكل جزء
و لكن لا تخفيه كلياً ، و يطلب من الطفل
تمييز هذه الأشكال .





الإدراك : الإدراك البصري

مثال للتوضيح :



أن تطلب المعلمة من الطالب / ة أخبارها بعدد الأشكال
المتداخلة في الصورة مع ذكر أسمائها :





الإدراك : الإدراك البصري

التمرين الأول



اختر الإجابة الصحيحة : كم عدد الأكواب الحمراء من
مجموعة الأكواب المتداخلة في الصورة ??

٩

٦

٥





الإدراك : الإدراك البصري

التمرين الثاني



اختر الإجابة الصحيحة : كم عدد الكرات المتداخلة في الصورة ؟؟

١

٢

٧





الإدراك : الإدراك البصري

التمرين الثالث



اختر الإجابة الصحيحة : كم عدد الطيور فقط من مجموعة
الحيوانات المتداخلة في الصورة ??

٤

٢

٨





الإدراك : الإدراك البصري

التمرين الرابع



اختر الإجابة الصحيحة : كم العدد الصحيح للأدوات المتداخلة
في الصورة ؟

٥

٧

٢





الإدراك : الإدراك البصري

التمرين الخامس



أذكر أسماء الحيوانات المتداخلة في الصورة ، ثم اختر عددها
الصحيح ؟؟

٦

٢

٩





الإدراك الإدراك البصري:

ما المقصود بالعلاقات المكانية؟

هي القدرة على إدراك وضع الأشياء في الفراغ ويتعين للطفل ان يتعرف على امكانية تسكين شيء ما او رمز او شكل في علاقة مكانية مع الأشياء الأخرى المحيطة به.



الإدراك الإدراك البصري:

• مهارة العلاقات المكانية:

المهارات الفرعية:
(١) الاتجاهات.

(٢) علاقة الأحرف بإمكانتها.

(٣) إدراك العلاقة بين الأشكال المختلفة في
المكان



الادراك: الادراك البصري



• مهارة الاتجاهات:

• تمارين المهارة:

- ١) الولد يمين الشجرة
- ٢) الولد بين الشجرة
- ٣) الولد أمام الشجرة
- ٤) العصفورة يسار السفينة.
- ٥) الخنفساء تحت الشجرة



الإدراك : الإدراك البصري



التمرين الأول



اختر الإجابة الصحيحة:
أين يقع الولد بالنسبة للشجرة؟



يمين

يسار

فوق



الإدراك : الإدراك البصري

التمرين الثاني



اختر الإجابة الصحيحة ؟
أين يقع الولد بالنسبة لشجرتين؟



بين

خلف

فوق



الإدراك : الإدراك البصري

التمرين الثالث



اختر الاجابة الصحيحة؟
أين يقع الولد بالنسبة للشجرة؟



أمام

خلف

فوق




الإدراك : الإدراك البصري



التمرين الرابع



اختر الإجابة الصحيحة؟
أين تقع العصفورة؟



يسار

بين

يمين



الإدراك : الإدراك البصري

التمرين الخامس



اختر الاجابة الصحيحة؟
أين تقع الخنفساء؟



فوق

داخل

تحت



الإدراك : الإدراك البصري

مهارة علاقة الأحرف بإمكانتها:

تمارين المهارة :

- (١) حرف الميم في وسط الكلمة.
- (٢) حرف الكاف في أول الكلمة.
- (٣) حرف الفاء في آخر الكلمة.
- (٤) حرف السين في أول الكلمة.
- (٥) حرف الميم في وسط الكلمة.
- (٦) حرف الظاء في وسط الكلمة.



الإدراك : الإدراك البصري

التمرين الأول



اختر الحرف الذي يناسب المكان :



ش...س

ح

م

م




الإدراك : الإدراك البصري

التمرين الثاني



اختر الحرف الذي يناسب المكان :



.....رة

ك

ك

ك




الإدراك : الإدراك البصري

التمرين الثالث



اختر الحرف الذي يناسب المكان :



خرو....

ف

و

ا



الإدراك : الإدراك البصري

التمرين الرابع



اختر الحرف الذي يناسب المكان؟



...

س

م

ن



الإدراك : الإدراك البصري

التمرين الخامس



اختر الحرف الذي يناسب المكان؟



ج...ل

ر

س

م



الإدراك : الإدراك البصري

التمرين السادس



اختر الحرف الذي يناسب المكان؟



م...لة

د

ج

ظ



الإدراك : الإدراك البصري

إدراك العلاقة بين الأشكال المختلفة في المكان:

تمارين المهارة :

- (١) الشرطي
- (٢) لاعب كرة القدم
- (٣) المعلم
- (٤) رجل الإطفاء
- (٥) الطباخ
- (٦) الدكتور



الإدراك : الإدراك البصري

التمرين الأول

اختر الصورة المناسبة لعمل كلا من :



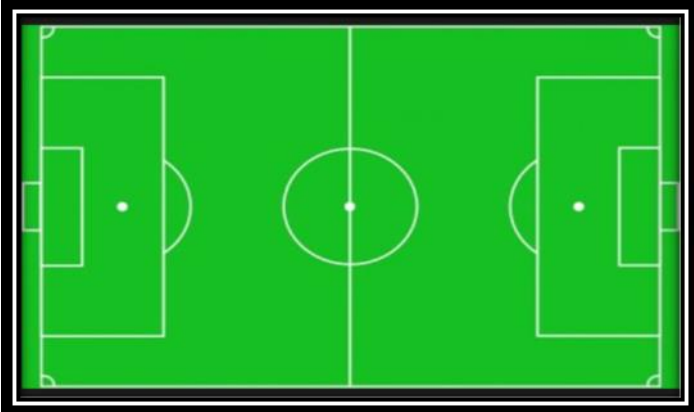


الإدراك : الإدراك البصري

التمرين الثاني



اختر الصورة المناسبة لعمل كلا من :





الإدراك : الإدراك البصري

التمرين الثالث



اختر الصورة المناسبة لعمل كلا من :






الإدراك : الإدراك البصري

التمرين الرابع

اختر الصورة المناسبة لعمل كلا من :





الإدراك : الإدراك البصري

التمرين الخامس



اختر الصورة المناسبة لعمل كلا من :





الإدراك : الإدراك البصري

التمرين السادس



اختر الصورة المناسبة لعمل كلا من :

